

جمهوری اسلامی ایران
وزارت آموزش و پرورش
اداره کل آموزش و پرورش خراسان رضوی

دفترچه سؤالات

آزمون پیشرفت تحصیلی

پایه هفتم (اول متوسطه دوره اول) نوبت صبح

در سال تحصیلی ۹۵-۱۳۹۴



مدت پاسخگویی: ۹۰ دقیقه

شروع آزمون: ساعت ۸ صبح

تعداد سؤال: ۷۵

شماره دانش آموز:

نام و نام خانوادگی دانش آموز:

تا شماره	از شماره	تعداد سؤال	مواد امتحانی
۵	۱	۵	قرآن
۱۲	۶	۷	پیام‌های آسمانی
۲۰	۱۳	۸	عربی
۳۵	۲۱	۱۵	ریاضی
۵۰	۳۶	۱۵	ادبیات فارسی
۶۶	۵۱	۱۵	علوم
۷۵	۶۷	۱۰	مطالعات اجتماعی

*توجه: به پاسخ‌های اشتباه نمره منفی تعلق نمی‌گیرد.

تاریخ برگزاری: ۱۳۹۴/۹/۱۶

مرحله اول
آذر ۱۳۹۴

نوبت
صبح

قرآن


- ۱- معنای دو کلمه «إِلَّا، قَالَ» به ترتیب در کدام گزینه آمده است؟
 (۱) به‌سوی، بگو (۲) مگر، گفت (۳) جز، گویا (۴) غیر از، می‌گوید
- ۲- کدام یک از معانی زیر برای عبارت «آيَاتُ الْكِتَابِ» صحیح نیست؟
 (۱) نشانه‌های قرآن (۲) نشانه قرآن (۳) آیات کتاب (۴) آیات قرآن
- ۳- با توجه به نمونه مقابل، شکل و معنای کدام ترکیب صحیح است؟ «لِ الْمُؤْمِنِينَ.....»
 (۱) لِلْمُؤْمِنِينَ : برای مؤمنان (۲) لِلْمُؤْمِنِينَ : برای مؤمنان
 (۳) لِمُؤْمِنِينَ : قطعاً مؤمنانی (۴) لِلْمُؤْمِنِينَ : قطعاً مؤمنانند
- ۴- ترجمه صحیح عبارت قرآنی «وَالِی تَمُودَ أَخَاهُمْ صَالِحاً» چیست؟
 (۱) و (فرستادیم) به‌سوی ثمود برادرشان صالح را (۲) و (فرستادیم) دوستش صالح را به‌سوی ثمود
 (۳) و (فرستادیم) ثمود را به‌سوی برادرشان صالح (۴) و (فرستادیم) به‌سوی ثمود مردم نیکوکار را
- ۵- بر اساس آیه «إِنَّ اللَّهَ لَا يَظْلِمُ النَّاسَ شَيْئاً» به کدام صفت خداوند پی می‌برید؟
 (۱) قدرت (۲) محبت (۳) عدالت (۴) سخاوت

پیام‌های آسمانی

- ۶- کدام یک از نمونه‌های زیر، ساده‌ترین نوع تشکر است؟
 (۱) احترام به معلم (۲) پیروی از پیامبران (۳) مطالعه کتاب‌های سودمند (۴) گفتن «متشکرم» به مادر
- ۷- با توجه به آیه «فَاللَّهُ خَيْرٌ حَافِظًا وَهُوَ أَرْحَمُ الرَّاحِمِينَ» کدام گزینه صحیح نیست؟
 (۱) خداوند بهترین محافظ انسان است. (۲) با محافظت خداوند، هیچ انسانی دچار حادثه نمی‌شود.
 (۳) محافظت خداوند از ما، نشان‌دهنده محبت خداست. (۴) اشتباهات و گناهان، باعث محرومیت از حفاظت خداوند می‌شود.
- ۸- در کدام گزینه، راه‌های بهره‌مندی از یاری خداوند، به‌طور کامل آمده است؟
 (۱) صبر و تقوا - دعا - یاری‌دادن خداوند (۲) نماز - صبر و تقوا - روزه
 (۳) روزه - دعا - صبر و تقوا (۴) امر به معروف - یاری‌رساندن به خدا - صبر و تقوا
- ۹- چرا مؤمنان از مرگ و رفتن به جهان آخرت ترسی ندارند؟ زیرا.....
 (۱) به‌اندازه کافی در دنیا تفریح کرده‌اند. (۲) می‌دانند در زندگی جدید خود در آرامش هستند.
 (۳) مرگ برای آنان پایان خوشی‌هاست. (۴) برای سفر خود توشه‌ای ذخیره نکرده‌اند.
- ۱۰- علی با دوستانش در مورد دعا کردن در حیاط مدرسه با یکدیگر صحبت می‌کردند. لطفاً مشخص کنید کدام یک از آن‌ها صحیح است؟
 (۱) علی: خداوند از نیازهای ما خبر دارد پس نیازی به دعا کردن نیست.
 (۲) سعید: بعضی از دعاها، چون از دید خدا پنهان می‌ماند، مستجاب نمی‌شود.
 (۳) نادر: دعا فقط نتیجه دنیایی دارد و تأثیری در روز قیامت ندارد.
 (۴) عارف: خدا هر دعایی که به مصلحت ما باشد، مستجاب می‌کند.
- ۱۱- کدام یک از شباهت‌های زندگی ما انسان‌ها با داستان پادشاه زیرک صحیح است؟
 (۱) پیرمرد دانا که پادشاه را راهنمایی کرد: فرشتگان (۲) مصالح ساختمانی و نهال‌های درختان: اعمال نیکو و کارهای شایسته
 (۳) جزیره‌ای که پادشاه به آن منتقل شد: زندگی انسان در دنیا (۴) دوره یک‌ساله حکومت: زندگی در آخرت
- ۱۲- نتیجه پرهیز از گناهان و عمل به واجبات از نظر حضرت علی علیه‌السلام چیست؟
 (۱) نهراسیدن از مرگ (۲) نجات یافتن از مرگ بد (۳) دوری از فقر و تهی‌دستی (۴) رهایی از فشار قبر

تربیتی

- ۱۳- معنی کدام کلمه صحیح است؟
 (۱) صَدِيق: دوستان (۲) مَوْت: مرده (۳) عَلَیْكَ: به سود تو (۴) بِنْتُ: دختر
- ۱۴- کدام کلمه جمع مکسر است؟
 (۱) جَبَلَان (۲) حَقَائِب (۳) فَاذْرُون (۴) صَابِرَات
- ۱۵- کدام ترجمه برای جمله مقابل صحیح است؟ "او لَئِكَ الْمُعَلِّمُونَ، نَاجِحُونَ"
 (۱) اینان، معلمانی موفق هستند. (۲) آن معلمان، موفق هستند.
 (۳) این معلمان، موفق هستند. (۴) آنان، معلمانی موفق هستند.
- ۱۶- کدام گزینه برای جای خالی جمله مقابل مناسب است؟ «..... خَيْرٌ مِنْ رَأْيٍ وَاحِدٍ»
 (۱) صَابِرَان (۲) صَابِرَةٌ (۳) یَوْمَان (۴) رَأْيَان
- ۱۷- کدام کلمه پرسشی برای جای خالی جمله مقابل مناسب است؟ «..... هِنَا بَسْتَانُ؟ لَا»
 (۱) مَن (۲) هَل (۳) هَذِهِ (۴) لِمَن
- ۱۸- کدام سؤال و پاسخ با تصویر مقابل ارتباطی ندارد؟



- (۱) لِمَن هَذَا الْكِتَابُ؟ لِطَالِبٍ
 (۲) مَن هُوَ؟ هُوَ عَلِيٌّ
 (۳) هَلْ هَذَا كِتَابٌ؟ نَعَمْ، هَذَا كِتَابٌ
 (۴) مَا تِلْكَ؟ تِلْكَ وَكَلْدٌ
- ۱۹- اِسْمِي زَيْنَبُ. لِي أُخْتَانِ، اِسْمُهُمَا فَاطِمَةٌ وَسَعِيدَةٌ.. اَنَا مُدْرَسَةُ اللُّغَةِ الْعَرَبِيَّةِ فِي اِصْفَهَانَ. اُخْتِي فَاطِمَةُ طَالِبَةٌ فِي الصَّفِّ الْاَوَّلِ وَسَعِيدَةُ طِفْلَةٌ صَغِيرَةٌ. وَالِدِي سَائِقُ السَّيَّارَةِ وَالِدَتِي تَعْمَلُ فِي الْبَيْتِ.
 با توجه به متن داده شده کدام گزینه پاسخ سؤال مقابل است؟ «مَنْ هِيَ مُدْرَسَةُ اللُّغَةِ الْعَرَبِيَّةِ؟»
 (۱) زَيْنَبُ (۲) وَالِدَةُ زَيْنَبُ (۳) هِيَ مِنْ اِصْفَهَانَ (۴) فَاطِمَةُ
- ۲۰- کدام جمله مناسب تصویر مقابل است؟



- (۱) هَذَا وَرْدَةٌ (۲) هَذَانِ وَرْدَتَانِ
 (۳) تِلْكَ وَرْدَةٌ (۴) هَاتَانِ وَرْدَتَانِ

ریاضی


- ۲۱- سال گذشته اداره راه عملیات آسفالت $\frac{1}{4}$ از یک جاده خاکی را به اتمام رساند. امسال نیز $\frac{2}{3}$ از قسمت خاکی باقیمانده آسفالت شد. اگر هنوز ۵ کیلومتر از جاده، خاکی مانده باشد کل طول این جاده چند کیلومتر بوده است؟
 (۱) ۳۰ کیلومتر (۲) ۳۵ کیلومتر (۳) ۱۵ کیلومتر (۴) ۴۰ کیلومتر
- ۲۲- مجموع سن سه خواهر، ۶۰ سال است. می دانیم سن آن‌ها سه عدد زوج متوالی است. سن کوچک‌ترین خواهر چقدر است؟
 (۱) ۱۶ (۲) ۱۸ (۳) ۲۰ (۴) ۲۲
- ۲۳- در مسابقه‌ای به ازای هر پاسخ درست یک توپ سفید (یک امتیاز مثبت) و به ازای هر پاسخ نادرست یک توپ سیاه (یک امتیاز منفی) داده می‌شود. نتیجه کار سه گروه در پایان به این ترتیب است: گروه اول: ۷ توپ سفید، ۵ توپ سیاه؛ گروه دوم: ۴ توپ سفید، ۷ توپ سیاه؛ گروه سوم: ۸ توپ سفید، ۶ توپ سیاه. کدام گروه یا گروه‌ها برنده مسابقه‌اند؟
 (۱) گروه دوم (۲) گروه اول و دوم (۳) گروه سوم (۴) گروه اول و سوم
- ۲۴- اگر $\square \times \triangle = 24$ باشد، به چند حالت می‌توان دو عدد طبیعی پیدا شود که بتوانیم آن‌ها را داخل مربع و مثلث قرار دهیم؟ (جابجایی دو عدد جزو حالت‌ها نیست).
 (۱) دو حالت (۲) سه حالت (۳) چهار حالت (۴) پنج حالت

۲۵- حاصل عبارت مقابل کدام است؟ $-5 + [3 \times (-2)] \div (-1) =$

- (۱) -۱ (۲) +۱ (۳) -۴ (۴) ۴

۲۶- در کدام گزینه عبارت داده شده نادرست است؟

- (۱) عدد ۱- بزرگ‌ترین عدد صحیح منفی است. (۲) حاصل ضرب دو عدد صحیح منفی، عددی مثبت است.
(۳) حاصل جمع هر عدد صحیح با قرینه‌اش، صفر است. (۴) قرینه هر عدد صحیح از خود عدد بزرگ‌تر است.



- (۱) $(+3) + (+5)$ (۲) $(-3) + (+5)$ (۳) $(+3) + (-5)$ (۴) $(-3) + (-5)$

۲۸- در یک باغچه بزرگ، گل‌ها به صورت زیر در ردیف‌های متوالی کاشته شده‌اند. اگر کاشت گل‌ها به همین ترتیب ادامه یافته باشد، در ردیف دهم چند گل کاشته شده است؟



- (۱) ۲۴ (۲) ۲۶ (۳) ۲۸ (۴) ۳۰

۲۹- محیط کدام یک از چندضلعی‌های زیر را می‌توان همیشه با عبارت جبری به صورت $4a$ نمایش داد؟

- (۱) دوزنقه (۲) متوازی‌الاضلاع (۳) مستطیل (۴) لوزی

۳۰- پاسخ معادله $2x - 1 = 7$ برابر است با...

- (۱) ۴ (۲) -۴ (۳) ۱۰ (۴) -۱۰

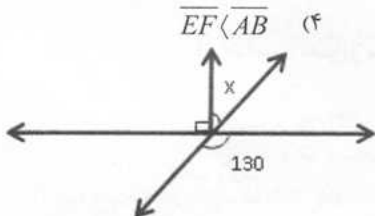
۳۱- مقدار عددی عبارت جبری $2(x-3)$ به ازای $x=2$ کدام است؟

- (۱) ۲ (۲) ۱ (۳) -۲ (۴) -۱

۳۲- بین چهار پاره خط \overline{AB} ، \overline{CD} ، \overline{EF} ، \overline{GH} روابط مقابل برقرار است. $\begin{cases} \overline{AB} = \overline{CD} \\ \overline{CD} < \overline{EF} \\ \overline{EF} < \overline{GH} \end{cases}$ با توجه به این روابط کدام گزینه، درست است؟

- (۱) $\overline{AB} = \overline{EF}$ (۲) $\overline{AB} < \overline{GH}$ (۳) $\overline{CD} = \overline{GH}$ (۴) $\overline{EF} < \overline{AB}$

۳۳- در شکل مقابل، با توجه به شکل اندازه زاویه x کدام گزینه است؟

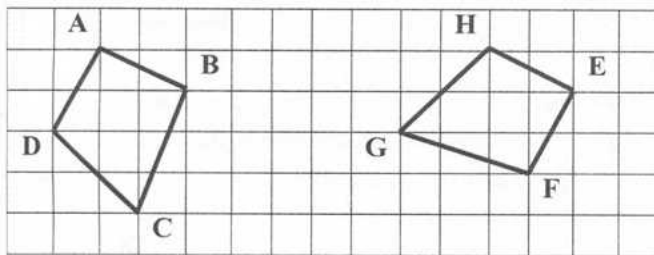


- (۱) ۴۰ درجه (۲) ۵۰ درجه (۳) ۶۰ درجه (۴) ۸۰ درجه

۳۴- از تقارن شکل مقابل نسبت به خط d کدام شکل حاصل می‌شود؟



۳۵- در شکل مقابل دو چهارضلعی $ABCD$ و $EFGH$ هم‌نهشت هستند، کدام زاویه متناظر با زاویه A است؟



- (۱) E (۲) F (۳) G (۴) H

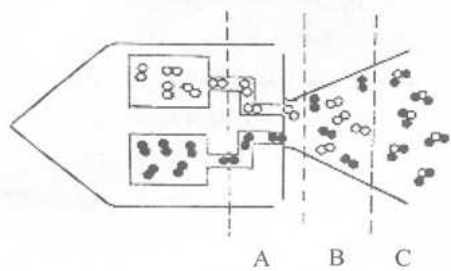

ادبیات فارسی

- ۳۶- معنی واژه‌های (بصیرت، حیات، صلاح، عجز) به ترتیب در کدام گزینه آمده است؟
 (۱) دانایی، صحن، وسیله‌ای در جنگ، درماندگی
 (۲) آگاهی، زندگی، درستی، ناتوانی
 (۳) بینش، میدان، اسلحه، ناتوانی
 (۴) روشنی، زنده بودن، آشتی، نادانی
- ۳۷- کدام واژه از واژه‌های زیر به درستی معنا شده است؟
 (۱) اثاث: بنیاد
 (۲) حک کردن: تراشیدن
 (۳) برزن: خانه
 (۴) تأمل: صبر کردن
- ۳۸- املاي کدام کلمه با توجه به مترادف آن درست نوشته شده است؟
 (۱) اضطراب: پریشان‌حالی
 (۲) تفسیر: سهل‌انگاری
 (۳) برخاست: بلند شد
 (۴) اعجاز: کاری شگفت انجام دادن
- ۳۹- کدام گزینه، غلط املايي بیشتری دارد؟
 (۱) متبوعات و رسانه‌ها، پاکدامنی و پارسائی، نیرو و نشاط، نسل جوان
 (۲) تصمیم فوری، ازیت و آزار، صندوق قلب، همه مال و دارایی
 (۳) رفیق و خیشاوند، خسته‌گی ناپذیر، وداء و خداحافظی، صفای طبیعت
 (۴) فراز و فرود، شبیح به رویا، نیازها و علایق، همراه و همسایه
- ۴۰- عبارت زیر چند جمله دارد؟
 «اما وقتی به قلبم نگاه کردم، دیدم با این‌که مادر خوبم توی قلبم جاگرفته و خیلی هم راحت است، باز هم نصف قلبم خالی مانده.»
 (۱) هفت جمله
 (۲) چهار جمله
 (۳) پنج جمله
 (۴) شش جمله
- ۴۱- در کدام گزینه، نام نویسنده یا شاعر کتاب، درست، معرفی شده است؟
 (۱) باغ ستاره‌ها: قیصر امین‌پور
 (۲) به هوای گل سرخ: نادر ابراهیمی
 (۳) خانه‌ای برای شب: اقبال آشتیانی
 (۴) کویر: علی شریعتی
- ۴۲- واژه‌های کدام گزینه با یکدیگر، هم‌خانواده نیست؟
 (۱) غرق، غرقه، غریق
 (۲) عالم، تعلیمات، اعمال
 (۳) صادق، صداقت، صدیقه
 (۴) حاصل، محصول، تحصیلی
- ۴۳- در بیت «دانه آرام بر زمین غلتید / رفت و انشای کوچکش را خواند» کدام آرایه ادبی به کار رفته است؟
 (۱) تکرار
 (۲) تشبیه
 (۳) تضاد
 (۴) تشخیص
- ۴۴- کدام جمله ادبی نیست؟
 (۱) کتاب خوب و سودمند ما را به سوی خویش می‌خواند
 (۲) روناک انگشتش را به دهان گذاشته بود
 (۳) جوان، چشمه جوشان نیرو و استعداد است
 (۴) روناک مثل بره‌ای دست‌هایش را در هوا تکان می‌داد
- ۴۵- جمله «نسیم مانند مادری مهربان و آداب‌دان به کودکان خویش حق‌شناسی و ادب می‌آموزد» جمله‌ای است از نوع ...؟
 (۱) خبری
 (۲) عاطفی
 (۳) پرسشی
 (۴) امری
- ۴۶- کدام جمله با الگوی (نهاد+مفعول+متمم+فعل) مطابقت و هم‌خوانی دارد؟
 (۱) روزی، کبوتریچه‌ای برای پرواز آماده شد
 (۲) دوره نوجوانی، دوران شکوفایی و سرسبزی است
 (۳) رضا کیف پول را به صاحبش برگرداند
 (۴) ای دوستان، فرصت‌های خوب را دریابید
- ۴۷- بیت «از دی که گذشت هیچ از او یاد مکن / فردا که نیامده است فریاد مکن» به چه نکته‌ای اشاره می‌کند؟
 (۱) اکنون و فرصت حال را دریافتن
 (۲) برنامه‌ریزی کردن برای آینده
 (۳) گذشته را به یاد آوردن
 (۴) به دنبال دیروز و فردا رفتن
- ۴۸- با توجه به بیت:
 «تو را پرواز بس زود است و دشوار / ز نوکاران که خواهد کار بسیار» منظور شاعر از نوکاران چه کسانی است؟
 (۱) کسانی که در پی کارهای نو و جدید هستند
 (۲) آنانی که بسیار باتجربه‌اند
 (۳) آدم‌هایی که دوست دارند همه کارها را با عجله به پایان برسانند
 (۴) انسان‌های بی‌تجربه و تازه‌کار
- ۴۹- در عبارت «جان پدر، تو نیز اگر بخفتی، به از آن که در پوستین خلق افتی» در پوستین خلق افتادن کنایه از چیست؟
 (۱) با مردم صمیمانه و مهربان رفتار کردن
 (۲) با ناز و آرامش به سر بردن
 (۳) دوختن پوستین و لباس برای مردم
 (۴) غیبت و بدگویی کردن

- ۵۰- معنا و مفهوم بیت «گفت پیغمبر هر آن کو سر نهفت / زود گردد با مراد خویش جفت» در کدام گزینه بیان گردیده است؟
- (۱) پیامبر فرمود: آن کسی که سرش را با دیگران مطرح کند، به موفقیت می‌رسد
 - (۲) پیغمبر گفت: هر کسی که سرش را ببوشاند و سخنی نگوید، به مراد خویش نایل نمی‌شود
 - (۳) پیامبر گفت: برای رسیدن به مقصود و مراد خود باید با دیگران مشورت کنیم
 - (۴) پیامبر فرمود: هر کسی که رازش را پنهان کند، به‌زودی به آرزوی خود خواهد رسید

علوم

- ۵۱- تولید سوخت هسته‌ای و استفاده از آن نمونه‌ای از تبدیل علم به فناوری است. به نظر شما کدام گزینه استفاده نادرست از این فناوری را بهتر بیان می‌کند.
- (۱) تولید گندم در زمین‌های شور
 - (۲) تولید رادیو داروها در درمان سرطان
 - (۳) به‌کارگیری در کلاهک هسته‌ای موشک‌ها
 - (۴) تولید انرژی الکتریکی
- ۵۲- کدام یکای اندازه‌گیری، با بقیه واحدها تفاوت بیشتری دارد؟
- (۱) میلی‌لیتر
 - (۲) سی‌سی
 - (۳) لیتر
 - (۴) سانتی‌متر مکعب
- ۵۳- دقت اندازه‌گیری یک ابزار ۰/۱ میلی‌متر است. کدام یک از مقدارهای زیر نمی‌تواند نتیجه اندازه‌گیری با این ابزار باشد؟
- (۱) ۱۴/۰۲۴ متر
 - (۲) ۱۴/۰۲۴ سانتیمتر
 - (۳) ۱۴/۲ میلی‌متر
 - (۴) ۱۴۰/۲۴ سانتی‌متر
- ۵۴- کدام نمودار رابطه‌ی دما و جنبش مولکولی را به‌طور کلی درست نشان می‌دهد.



- ۵۵- شکل زیر حرکت یک موشک را در فضا نشان می‌دهد. نیروی محرکه این موشک اکسیژن و هیدروژن مایع است. در کدام یک از ناحیه‌های A، B و C به ترتیب از راست به چپ ترکیب و مخلوط مشاهده می‌شود.
- (۱) A و B
 - (۲) B و C
 - (۳) A و C
 - (۴) A و C

- ۵۶- با توجه به مطالب داده شده، مشخص کنید چند عبارت صحیح است؟
- * چگالی فولاد خیلی بیشتر از چگالی طلا است.
 - ** یکای اندازه‌گیری استحکام، نیوتون است.
 - *** هرچه مقدار خاک رس بیشتر باشد، سختی مغز مداد بیشتر است.
 - **** اجزای سازنده فولاد زنگ نزن نیکل، کربن و آهن است.

(۱) ۴ (۲) ۳ (۳) ۲ (۴) ۱

- ۵۷- جرم یک فشانورد در روی کره ماه ۷۳ کیلوگرم است. با فرض اینکه شتاب جاذبه در کره مریخ ۴ نیوتون بر کیلوگرم باشد. جرم این فشانورد را در کره مریخ حساب کنید.

(۱) ۷۳ کیلوگرم (۲) ۲۹۲ کیلوگرم (۳) ۷۳۰ کیلوگرم (۴) ۷۳۰۰ کیلوگرم

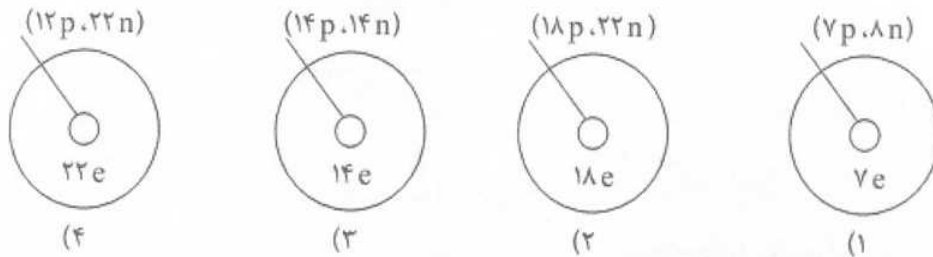
- ۵۸- فلزات هوشمند مانند سیم ارتودنسی دندان پزشکی را چگونه تغییر شکل می‌دهند؟

(۱) با تغییر چیدمان اتمی (۲) با تغییر شیمیایی (۳) به کمک پزشک (۴) با تغییر رنگ

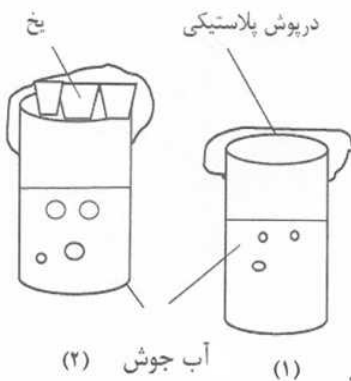
نوع ممداد	کربن	خاک رس	سختی
۱	۴۱٪	۵۳٪	سخت ترین
۲	۶۸٪	۲۶٪	متوسط
۳	۹۰٪	۴٪	نرم ترین

۵۹- مواد اصلی سازنده مغز ممداد، کربن و خاک رس است. در جدول مقابل درصد این مواد و سختی مغز ممداد برای چند ممداد مختلف نشان داده شده است. بر اساس جدول چه عاملی باعث افزایش سختی مغز ممداد می شود؟

- (۱) کربن زیاد (۲) کربن کم (۳) رس زیاد (۴) رس کم
- ۶۰- رضا تصمیم داشت ساختار اتمی ۴ عنصر را نشان دهد. او در نشان دادن ساختار یکی از اتم ها اشتباه کرده است. ساختار کدام اتم نادرست است؟



- ۶۱- برای ساخت سد محکم بتنی بر روی یک رودخانه کدام روش ساخت و تهیه را پیشنهاد می کنید. تهیه بتن از
 (۱) سیمان، آب و قلوه سنگ
 (۲) ماسه، آهک و سنگ
 (۳) سیمان، آب و توری های فلزی
 (۴) سیمان و توری فلزی
- ۶۲- تهیه جعبه میوه از پلاستیک های شکسته و استفاده از شیشه سس برای نگهداری حبوبات کدام یک از راه های حفاظت از منابع طبیعی است؟
 (۱) بازیافت - مصرف دوباره
 (۲) کاهش مصرف - تولید دوباره
 (۳) تولید دوباره - بازیافت
 (۴) مصرف دوباره - مصرف دوباره
- ۶۳- مسیر جریان آب در رودخانه فصلی قره سو در کلات نادر تقریباً مستقیم است. به نظر شما علت اصلی آن کدام گزینه است؟
 (۱) نرمی بستر رودخانه (۲) سختی بستر رودخانه (۳) شیب زیاد زمین (۴) شیب کم زمین
- ۶۴- کدام یک از دریاچه های زیر در دهانه های آتشفشان تشکیل می شود؟
 (۱) دریاچه خزر (۲) دریاچه ارومیه (۳) دریاچه سیلان (۴) دریاچه درون غار علی صدر
- ۶۵- دانش آموزی مطابق شکل های زیر آزمایش هایی را طراحی و اجرا نموده است. با توجه به شکل های ۱ و ۲، به ترتیب هدف از اجرای این آزمایش ها چه بوده است؟



- (۱) بررسی چرخه آب - بررسی نحوه تشکیل ابر
 (۲) بررسی نحوه تبخیر آب - بررسی نحوه تشکیل ابر و باران
 (۳) بررسی نحوه ایجاد بارش - بررسی نحوه تشکیل ابر و باران
 (۴) بررسی نحوه تشکیل ابر و باران - بررسی نقش یخ در تغییرات دمایی

مطالعات اجتماعی

- ۶۶- کدام یک از موارد زیر جزو حقوق دانش آموزان در مدرسه نیست؟
- (۱) توجه یکسان معلمان
(۲) امکان بیان محترمانه نظرات
(۳) رفتار عادلانه مسئولان مدرسه
(۴) وجود امنیت در کوچه و خیابان
- ۶۷- وظایفی که انسان‌ها بر عهده دارند و انتظار می‌رود درست انجام دهند، چه نامیده می‌شود؟
- (۱) حقوق متقابل
(۲) حقوق طبیعی
(۳) مسئولیت
(۴) احترام متقابل
- ۶۸- ایستادن در صف اتوبوس، به علت رعایت نظم، جزو کدام دسته از مقررات محسوب می‌شود؟
- (۱) مذهبی
(۲) اجتماعی
(۳) قانونی
(۴) مصوبات مجلس
- ۶۹- کدام وظیفه بر عهده مجلس شورای اسلامی است؟
- (۱) تطبیق مصوبات با قانون اساسی
(۲) تأیید صلاحیت نامزدهای انتخابات
(۳) نظارت بر انتخابات ریاست جمهوری
(۴) تهیه قوانین عادی
- ۷۰- جمعیت هلال احمر، در شرایط عادی چه کاری انجام می‌دهد؟
- (۱) رساندن کمک‌های اولیه
(۲) برپایی چادرهای اسکان موقت
(۳) حفظ محیط زیست
(۴) جمع‌آوری کمک‌های مردمی
- ۷۱- مؤسسه بیمه با کدام هدف به وجود آمده است؟
- (۱) جبران هزینه‌های مالی و جانی
(۲) ایجاد همدلی بین افراد جامعه
(۳) برنامه‌ریزی مالی برای آینده
(۴) ایجاد قرارداد بین افراد و مؤسسه
- ۷۲- کدام بیمه اجباری است؟
- (۱) بیمه آتش‌سوزی
(۲) بیمه سرنشین خودرو
(۳) بیمه عمر
(۴) بیمه زلزله
- ۷۳- کدام فعالیت بین تولیدکننده و مصرف‌کننده، رابطه برقرار می‌کند؟
- (۱) کشاورزی
(۲) صنعت
(۳) توزیع
(۴) خدمات
- ۷۴- کدام سازمان، کیفیت کالاهای تولیدشده را آزمایش می‌کند؟
- (۱) استاندارد و تحقیقات صنعتی
(۲) حمایت از حقوق مصرف‌کنندگان
(۳) ثبت اختراعات و اکتشافات
(۴) فناوری‌های تولیدی
- ۷۵- کدام مورد از حقوق مصرف‌کننده محسوب نمی‌شود؟
- (۱) خرید کالای سالم
(۲) درج برجسب مشخصات کالا
(۳) اعطای کارت خرید اعتباری
(۴) وجود علامت استاندارد