



آزمون تبار

الْعِلْمُ يُنْجِدُ الْفِكْرَ . امام علی (ع)
دانش روشنی بخش اندیشه است.

دفترچه سوالات آزمون

نام درس	تعداد سوال	از سوال	تا سوال	زمان پیشنهادی به دقیقه
قرآن	۱۰	۱	۱۰	۱۰
پیام‌های آسمان	۱۰	۱۱	۲۰	۱۰
علوم تجربی	۱۵	۲۱	۳۵	۲۵
ریاضی	۱۵	۳۶	۵۰	۲۵
ادبیات فارسی	۱۰	۵۱	۶۰	۱۰
عربی	۱۰	۶۱	۷۰	۱۰
مطالعات اجتماعی	۱۵	۷۱	۸۵	۱۵
زبان انگلیسی	۱۰	۸۶	۹۵	۱۰

تاریخ برگزاری آزمون : ۱۳۹۷/۰۹/۱۰
تعداد سوالات : ۹۵
مدت زمان پاسخگویی : ۱۱۵ دقیقه
زمان شروع آزمون : ۸ صبح

آزمون نمره منفی دارد

www.tabaar.com

آزمون پایه هفتم

سال تحصیلی ۹۸ - ۱۳۹۷

زمان پیشنهاد: ۱۰ دقیقه

قرآن (از سوال ۱ تا ۱۰)

- ۱) معنای کلمات (الرَّحْمَنُ - إِلَّا) به ترتیب در کدام گزینه آمده است؟
 الف) مهربان - مگر ب) بخشنده - به سوی ج) مهربان - آگاه باشید د) بخشنده - جز
- ۲) معنای درست عبارت قرآنی (فِي اخْتِلَافِ اللَّيْلِ وَالنَّهَارِ) کدام مورد است؟
 الف) در اختلاف شب و روز ج) در تفاوت شب و روز
 ب) در آمد و شد شب و روز د) در اندازه ی شب و روز
- ۳) کدام کلمه درست معنا شده است؟
 الف) رحمة: لطف ب) یا أَيُّهَا: از سوی ج) قَالَ: بگو د) مَا: همه
- ۴) جاهای خالی ترجمه ی عبارت قرآنی (لَنْ نَعْدَ اللَّهَ عَقْبًا) قطعاً خدا است. با کدام کلمات کامل می شود؟
 الف) وعده داد - حق ب) وعده ی - کامل ج) وعده ی - حق د) وعده می دهد - درست
- ۵) با توجه به ترجمه ، جای خالی عبارت قرآنی (وَلَكِنْ أَكْثَرُهُمْ...) با کدام کلمه کامل می شود؟
 ترجمه: (ولی بیشتر آن ها نمی دانند)
 الف) لَا يُعْلَمُونَ ب) لَا يَعْلَمُونَ ج) لَا يَظْلَمُونَ د) لَا يُؤْمِنُونَ
- ۶) کدام معنا برای کلمه «جَاه» در عبارت قرآنی {فَدَجَاهُكُمْ} مناسب تر است؟
 الف) می آید ب) آمد ج) آمدند برای د) آمد برای
- ۷) پیام عبارت قرآنی (وَهُوَ عَلِيمٌ بِمَا يَكْفِيهِمْ) کدام مورد است؟
 الف) توانایی خداوند بر هر چیزی ج) آموزش خداوندی برای همه ی مردم
 ب) سربلندی و عزت خداوند در همه ی موارد د) قدرت خداوند در بعضی از موارد جهان
- ۸) معنای درست کلمه ی (أَعْبُدُوا) در عبارت قرآنی {أَعْبُدُوا اللَّهَ} کدام مورد است؟
 الف) عبادت کن ب) عبادت کردند ج) عبادت کنید د) عبادت می کنم
- ۹) کدام یک از ترکیب های قرآنی زیر درست معنا نشده است؟
 الف) إِلَهُكُمْ: به سوی شما ب) للمؤمنين: برای مومنان
 ج) عَلِيمُكُمْ: بر شما د) إِلَيْهِ: به سوی او
- ۱۰) ترجمه درست عبارت قرآنی {وَاللَّيْلُ نَسُوبٌ لِّمَنْ هُوَ} در کدام گزینه است؟
 الف) و (فرستادیم) برادر (حضرت) صالح (ع) را برای قوم ثمود ب) و قوم ثمود ، به سوی برادرشان صالح آمدند
 ج) قوم ثمود و برادرانشان کارهای صالح انجام دادند د) و (فرستادیم) به سوی (قوم) ثمود برادرشان صالح (ع) را

زمان پیشنهاد: ۱۰ دقیقه

پیام های آسمان (از سوال ۱۱ تا ۲۰)

- ۱۱) مفهوم آیه شریفه «هُوَ مَعَكُمْ أَيَّمَا كُنْتُمْ» چه می باشد؟
 الف) خداوند ما را دوست دارد ج) هر چه بخواهیم خداوند به ما می دهد
 ب) خداوند از ما در برابر حوادث محافظت می کند د) خداوند در همه جا با ماست
- ۱۲) نتایج شکر گذاری چیست؟
 الف) بیشتر شدن نعمت ج) دور شدن از گناهان
 ب) راضی شدن خداوند د) گزینه الف و ب صحیح است
- ۱۳) آیه «إِن يَأْكُفِرْ بَعْضُكُمْ بِبَعْضٍ فَبِمَا كَفَرْتُمْ سَاءَ مَا يَحْكُمُ اللَّهُ فِيكُمْ» به چه موضوعی اشاره دارد؟
 الف) یاری کردن خداوند ج) طلب یاری از خداوند
 ب) طلب نعمت از خداوند د) طلب علم از خداوند
- ۱۴) اینکه انسان در هنگام مواجه شدن با گناهان از آنها دوری کند نامیده می شود.
 الف) عبادت ب) تقوا ج) توبه د) جهاد
- ۱۵) این آیه اشاره به چه مطلبی دارد؟ «وَقَالَ رَبُّكُمْ ادْعُونِي أَسْتَجِبْ لَكُمْ»
 الف) سپاسگذاری خداوند ب) صبر و تقوا ج) یاری کردن خداوند د) دعا کردن
- ۱۶) چه کسانی مرگ برای آنها پایان خوشیها و سرآغاز سختی هاست؟
 الف) کسانی که به فکر زندگی پس از مرگ هستند ج) کافران و بدکاران
 ب) کسانی که در دنیا فقط خوشگذرانی کردند د) گزینه ب و ج

۱۷) کدام گزینه صحیح نمی باشد؟

- الف) وضعیت ما انسانها در هنگام رفتن از این دنیا بالانسهای دیگر متفاوت است.
 ب) حالت پادشاهان مختلف در هنگام رفتن از شهر به سوی جزیره در قصه زیرک یکسان بود.
 ج) کسانی که در زندگی خود به خدا و پیامبرانش ایمان دارند مرگ برای آنها آرامش و راحتی است.
 د) هنگامی که فرشتگان جان انسانهای پاک را می گیرند به آنان می گویند درود بر شما.

۱۸) چه عواملی در جنگ احد سبب پیروزی مسلمانان شد؟

- الف) یاری دادن خداوند
 ب) صبر و تقوا
 ج) دعا کردن
 د) تجهیزات و نیروهای نظامی

۱۹) بر اساس سخن امام صادق (ع) شکر نعمت آن است که.....

- الف) از حرام ها دوری کنیم
 ب) از نعمتها استفاده کنیم
 ج) در برابر نعمتهای خدا شکرگذار باشیم
 د) از آنچه داریم انفاق کنیم

۲۰) خداوند کریم در آیه "إِن تَنْصُرَالله يَنْصُرْكُمْ وَيُثَبِّتْ أَقْدَامَكُمْ" چه وعده ای به مومنان داده و یکی از بهترین حالت هایی که در آن

دعاستجاب می شود چیست؟

- الف) وعده یاری-صبروتقوا
 ب) وعده یاری-نماز
 ج) وعده استجابت دعا-صبروتقوا
 د) وعده استجابت دعا-نماز

زمان پیشنهاد : ۲۵ دقیقه

علوم (از سوال ۲۱ تا ۳۵)

۲۱) عبارت « مواد عبارتند از عنصر - ترکیب و مخلوط » استفاده از کدام مهارت است؟

- الف) فرضیه سازی
 ب) طبقه بندی
 ج) آزمایش کردن
 د) اندازه گیری

۲۲) در تصویر مقابل دانش آموزان از کدام مهارت استفاده می کنند؟



- الف) یادداشت برداری
 ب) آزمایش کردن
 ج) مشاهده
 د) اندازه گیری

۲۳) از بین موادی که در آب حل نمی شود چگالی کدام یک از آب کمتر است؟

- الف) جوهر نمک
 ب) براده آهن
 ج) گوگرد
 د) اتانول

۲۴) جسمی به وزن ۶ نیوتن را درون استوانه مدرجی می اندازیم آب درون استوانه مدرج ۲۰ سانتی متر مکعب جا به جا می شود. چگالی

جسم چند گرم بر سانتی متر مکعب است؟

- الف) ۳۰
 ب) ۳۰۰
 ج) ۰/۳
 د) ۰/۰۰۳

۲۵) کدام یک از اعداد زیر با خط کش میلی متری اندازه گیری نشده است؟

- الف) ۶۰ سانتی متر
 ب) ۷/۱ سانتی متر
 ج) ۷/۰ میلی متر
 د) ۸۰ میلی متر

۲۶) دو ساعت و نیم چند ثانیه است؟

- الف) ۱۵۰
 ب) ۹۰۰۰
 ج) ۷۲۰۰
 د) ۱۰۲۰۰

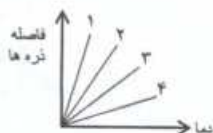
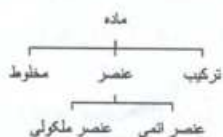
۲۷) از بین مواد موجود چه تعداد از این مواد در گروه عنصرهای ملکولی قرار می گیرند؟

(کلسیم - آهن - گوگرد - جیوه - متان - کربن دی اکسید - هیدروژن - نقره - هلیوم - مس)

- الف) ۱ مورد
 ب) ۲ مورد
 ج) ۳ مورد
 د) ۴ مورد

۲۸) با توجه به نمودار مقابل در دمای ۱۵ °C تراکم پذیری کدام ماده بیش تر است؟

- الف) ماده ۱
 ب) ماده ۲
 ج) ماده ۳
 د) ماده ۴



۲۹) کربن دی اکسید از دو عنصر کربن و اکسیژن تشکیل شده است در ۲ ملکول کربن دی اکسید چه تعداد ذره در هسته آن قرار دارد.

- الف) ۲۲ (ب) ۸۸ (ج) ۶۶ (د) ۴۴

۳۰) دو میله ۱ و ۲ در دمای 20°C طول یکسانی دارد. دمای آنها را به 10°C می رسانیم. در این دما میله ۲ از میله ۱ کوتاهتر است جنس این دو میله در کدام گزینه درست بیان شده است؟

- الف) میله ۲ شیشه - میله ۱ آهن
ب) میله ۲ آهن - میله ۱ شیشه
ج) میله ۲ آهن - میله ۱ مس
د) میله ۲ پلاستیک - میله ۱ مس

۳۱) با توجه به میزان انبساط مواد مختلف در برابر گرما کدام ماده مربوط به ستون B نمودار می باشد؟

- الف) نیتروژن (ب) آب (ج) الکل (د) مس

۳۲) موادی که در ساخت آلیاژهای آهن استفاده می شود چه مزیت هایی دارد؟

- الف) باعث استحکام بخشیدن و سختی آهن می شود
ب) از زنگ زدن آهن جلوگیری می کند
ج) کاربرد بیشتری در صنعت دارد
د) همه موارد

۳۳) افزودن چه ماده ای به کربن سبب سختی بیشتر آن می شود؟

- الف) آهن (ب) گرافیت (ج) خاک رس (د) گوگرد

۳۴) استحکام بیانگر کدام ویژگی ماده است؟

- الف) مقاومت ماده در برابر خراشیدگی
ب) مقاومت ماده در برابر پارگی
ج) قابلیت ماده در عبور جریان برق
د) شکل پذیر بودن ماده

۳۵) در بین نقره - آلومینیوم - مس و روی به ترتیب کدام ارزان ترین و کدام گران ترین است؟

- الف) مس - آلومینیوم (ب) روی - نقره (ج) آلومینیوم - مس (د) نقره - مس

زمان پیشنهاد: ۲۵ دقیقه

ریاضی (از سوال ۳۶ تا ۵۰)

۳۶) فرض کنید با دوستانتان به مسافرت رفته اید شما یک چهارم پول خود را بابت هزینه سفر به مدیر اردو تحویل داده اید و سپس در طول مسافرت نصف باقی مانده پولتان را خرج کرده اید شما در طول این مسافرت چند درصد پول خود را خرج کرده اید؟

- الف) $12/5$ (ب) $62/5$ (ج) ۷۵ (د) $37/5$

۳۷) ۱۳۰ عدد صحیح متوالی داریم که در بین آن ها هم عدد مثبت و هم عدد منفی وجود دارد. مجموع آن ها حداقل چه عددی می تواند باشد.

- الف) -۵۰۵۰ (ب) -۸۰۵۰ (ج) -۸۲۵۰ (د) -۸۲۵۵

۳۸) تعدادی میز چهار پایه و شش پایه در یک کارگاه وجود دارد اگر تعداد کل پایه ها ۳۸۶ عدد باشد حداقل چند میز در این کارگاه وجود دارد؟

- الف) ۶۵ (ب) ۶۴ (ج) ۶۳ (د) ۶۲

۳۹) حاصل عبارت $1 + \frac{1}{1+x} + \frac{7}{4}$ برابر شده است مقدار x کدام است؟

- الف) ۳ (ب) ۴ (ج) ۵ (د) ۷

۴۰) قرینه ی عدد ۴- نسبت به عدد \square برابر ۲۰+ است. قرینه ی \square نسبت به ۲۰ کدام است؟

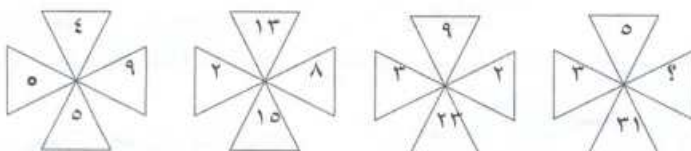
- الف) -۸ (ب) ۲۸ (ج) ۳۲ (د) ۴۰

۴۱) با ارقام ۴، ۵، ۰، ۳ چند عدد چهاررقمی می توان نوشت که بر ۲ بخش پذیر باشد: (تکرار ارقام مجاز است)

- الف) ۲۵۶ (ب) ۱۹۲ (ج) ۶۴ (د) ۹۶

۴۲) در بین اعداد داخل هر شکل، ارتباط خاصی برقرار است. به جای علامت سؤال کدام عدد باید قرار داده شود؟

- الف) ۸



- ب) ۹

- ج) ۷

- د) ۶

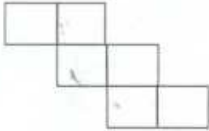
۴۳) حاصل عبارت زیر در کدام گزینه آمده است:

$$6 - 24 \div 6 \times 2 - 2(-3 - (-4 + 1))$$

- الف) صفر (ب) -۳۲ (ج) -۱۴ (د) -۲۶

۴۴) در شکل روبه رو شش مربع مساوی دیده می‌شود. اگر مساحت شکل ۵۴ مترمربع باشد. محیط آن چقدر است؟

- الف) ۴۵ متر (ب) ۳۹ متر
ج) ۴۲ متر (د) ۴۰ متر



۴۵) اگر هشت کارگر در ۵ روز ۱۰۰ کیلو گل زعفران را ریشه‌گیری (جدا کردن سر ریشه از گل) کنند شش کارگر در ۸ روز چند کیلو گل را ریشه‌گیری خواهند کرد؟

- الف) ۱۴۰ (ب) ۱۳۰ (ج) ۱۱۰ (د) ۱۲۰

۴۶) کدام گزینه با سایر گزینه‌ها برابر نیست؟

- الف) $1 \div 9 + 9 \div 1$ (ب) $1 \times 9 \div (9 \times 1)$
ج) $1 - 9 + 9 \times 1$ (د) $1 + 9 \div 9 - 1$

۴۷) سه عدد صحیح داریم که مجموع اولی و دومی ۷- می‌باشد و مجموع دومی و سومی ۱۳+ و مجموع اولی و سومی ۱۸- می‌باشد. در این صورت مجموع سه عدد با هم چند است؟

- الف) ۱۲ (ب) ۸- (ج) ۶- (د) ۱۳

۴۸) با $\frac{3}{5}$ پولی، پارچه‌ای به قیمت ۳۰۰۰۰ تومان خریدیم. با باقیمانده پول چند متر پارچه از قرار متری ۴۰۰ تومان می‌توانیم بخریم؟

- الف) ۳۰ (ب) ۴۰۰ (ج) ۵۰ (د) ۱۲۵

۴۹) حاصل جمع مضارب صحیح، منفی و دورقمی عدد ۳، برابر کدام یک از گزینه‌های زیر است؟

- الف) ۱۶۶۵ (ب) ۱۶۵۶- (ج) ۱۷۶۴- (د) ۱۶۷۴-

۵۰) اگر $C = 4 - (2 \times (-3))$ و $B = 2(1 - 3)$ و $A = -1 - (7 + 3)$ باشد، حاصل عبارت A-B-C کدام است:

- الف) ۳+ (ب) ۵+ (ج) ۱۷- (د) ۲۰-

زمان پیشنهاد: ۱۰ دقیقه

ادبیات فارسی (از سوال ۵۱ تا ۶۰)

۵۱) معنای درست واژه‌های «توفیق، صلاح، فضل، جلال» به ترتیب چیست؟

- الف) موفق - اسلحه - کرم - شکوه
ب) سازگاری - درستی - بخشش - عظمت
ج) موافقت - خیر - بخشندگی - بزرگی
د) سازگاری - راستی - بخشنده - عظمت

۵۲) ارتباط واژه‌ها در کدام گزینه به درستی بیان شده است؟

- الف) تحسین (احسان) انوار (نور) خان (خوان) (هم خانواده - جمع - هم آوا)
ب) حیات (حیاط) معظم (نظم) گیتی (جهان) (هم آوا - هم خانواده - مترادف)
ج) دیدار (بینایی) عظمت (کوچکی) کار (کارگاه) (هم خانواده - متضاد - جمع)
د) استقلال (وابستگی) نیکی (خوبی) علما (عالم) (مترادف - مترادف - جمع)

۵۳) املاي کدام واژه با توجه به معنای آن نادرست است؟

- الف) تبسم (لبخند) (ب) سلاح (درستی) (ج) غوغا (آشوب) (د) مونس (همدم)

۵۴) در کدام گزینه نهاد حذف شده است؟

- الف) گاهی رسانه‌ها از انحراف نسل جوان سخن می‌گویند
ب) آینده با حرف ساخته نمی‌شود
ج) قدر جوانی تان را بدانید
د) آفریدگار همه شکوفه‌ها اوست

۵۵) لحن و شیوه بیان جمله‌های بیت زیر به ترتیب کدام است؟

- الف) خبری - عاطفی (ب) خبری - خبری
ج) امری - خبری (د) پرسشی - خبری
ب) آینه با حرف ساخته نمی‌شود
د) آفریدگار همه شکوفه‌ها اوست

آرزوهایتان چه رنگین است؟

با خودش زیر لب چنین می‌گفت

۵۶) داده‌های کدام گزینه نادرست است؟

- الف) نثر خواجه عدالله انصاری، مسجع است- «مناجات نامه» یکی از آثار اوست.
 ب) دکتر شریعتی نویسنده معاصر است و «آینه‌ها ناگهان» و «رگبار کلمات» از آثار اوست.
 ج) مولوی از شاعران بزرگ قرن هفتم هجری قمری است- معروف ترین اثر وی «مثنوی معنوی» است.
 د) «به هوای گل سرخ» یکی از آثار طاهره ایبدا است.

۵۷) آرایه‌های ادبی کدام گزینه درست می‌باشد؟

- الف) «از ظلمت خود رهاییم ده با نور خود آشناییم ده» (تضاد - مبالغه)
 ب) « رنگ تفریح را که زنجره زد باز هم در کلاس غوغا شد» (کنایه - جان بخشی به اشیاء)
 ج) « صد هزاران دام و دانه است ای خدا ما چو مرغان حریمی بی نوا» (تشبیه - کنایه)
 د) « بر درختی شکوفه ای خندید در کتابی بهار معنا شد» (تشخیص - مراعات نظیر)

۵۸) در کدام گزینه علاوه بر آرایه‌ی تشخیص (جان بخش)، آرایه‌ی تشبیه هم به کار رفته است؟

- الف) به احساسات خاموش اما سرشار از پاکی سبزه‌های معصوم پاسخ گفتم
 ب) کودکان برنشاط گل بوته‌ها در گوش نسیم آمین می‌گفتند
 ج) آب باگام‌های استوار می‌رفت تا خود را به دهان خشک زمین برساند
 د) نسیم به نهال‌های جوان حق شناس و ادب می‌آموزد

۵۹) بیت «جهان جمله فروغ روی حق دان / حق اندر وی ز پیدایی است پنهان» با کدام بیت ارتباط معنایی ندارد؟

- الف) به دریا بنگرم دریا تو بینم
 ب) برگ درختان سبز در نظر هوشیار
 ج) یار بی پرده از در و دیوار
 د) هر گل و برگی که هست یاد خدا می‌کند

۶۰) کدام گزینه درباره بیت زیر نادرست است؟

- الف) بیت دارای چهار جمله است
 ب) «رسید» و «رسید» ردیف هستند
 ج) «مژده» نهاد است
 د) «گلشن» متمم است

مژده به گل‌ها برید یار به گلشن رسید»

«منتظران بهار، فصل شکفتن رسید»

زمان پیشنهاد: ۱۰ دقیقه

عربی (از سوال ۶۱ تا ۷۰)

۶۱) ترجمه صحیح «لهذا الصَّفَّ، نافذتان جمیلتان» کدام است؟

- الف) برای این کلاس، پنجره ای زیبا است.
 ب) کلاس، پنجره های زیبایی دارد.
 ج) این کلاس، دو پنجره ی زیبا دارد.
 د) آن کلاس پنجره های زیبایی دارد

۶۲) با توجه به ترجمه فارسی، گزینه صحیح برای جای خالی کدام است؟

..... الطُّلابُ، «این دانش آموزان، موفق هستند.»

- الف) هذِهِ، نَاجِحَةٌ
 ب) هَذَا، نَاجِحُونَ
 ج) أُولَئِكَ، نَاجِحَاتُ
 د) هَؤُلَاءِ، نَاجِحُونَ

۶۳) همه گزینه ها از نظر نگارش صحیح هستند به جز گزینه ی

- الف) مَا هُوَ طَرِيقُ الْجَنَّةِ
 ب) هَذِهِ هَدِيَّةٌ لِأُمِّي
 ج) مَاذَا فِي السُّورَةِ؟
 د) مَا هُوَ الْمَشْكَلَةُ؟

۶۴) نگارش کدام جمله صحیح است؟

- الف) هَذَا لَوْحَةٌ
 ب) تَلَكْ بَنْتٌ
 ج) ذَلِكَ سَيَّارَةٌ
 د) هَذِهِ جَبَلٌ

۶۵) کدام گزینه برای مذکر و مؤنث یکسان به کار می‌رود؟

- الف) أَنْتَ
 ب) أَنْتِ
 ج) أَنْتَا
 د) هُنَا

۶۶) گزینه درست را برای جای خالی انتخاب کنید. «..... وَوَدَّتَانِ جَمِيْلَتَانِ»

- الف) هُنَّ
 ب) هَاتَانِ
 ج) هُنَا
 د) تَلَكْ

۶۷) در کدام گزینه همه اسم ها جمع هستند؟

- الف) ضاحات - اولاد - رجال
 ج) مؤمنون - جبل - ضایقات

۶۸) کدام گزینه « جمع مذکر سالم » است؟

- الف) نسیان
 ج) مجهولات
 ب) گوز
 د) غابدون

۶۹) گزینه مناسب برای تصویر داده شده کدام است؟

- الف) أولئك البنات في الحديقة
 ب) هؤلاء الطلاب في البستان
 ج) هذان الرجلان في الحديقة
 د) هاتان المرأتان في البستان

۷۰) در کدام گزینه همه کلمات پرسشی هستند؟

- الف) لئن - أ - ما - من
 ج) من - ما - لئن - هل
 ب) هل - أ - فاذا - هو
 د) فاذا - ما هو - ماهي - هي



زمان پیشنهادی: ۱۵ دقیقه

مطالعات اجتماعی (از سوال ۷۱ تا ۸۵)

۷۱) مهم ترین حق انسان کدام مورد است ؟

- الف) حق داشتن امنیت
 ب) حق حیات یا زندگی
 ج) حق برخورداری از تحصیل
 د) حق داشتن لباس و مسکن

۷۲) تبعه یک کشور بودن موجب می شود افراد حقوقی را بر مبنای آن کشور داشته باشند.

- الف) حقوق طبیعی
 ب) حقوق متقابل
 ج) قوانین
 د) توان مالی

۷۳) ((تلاش میکنم با زبانم دروغ نگویم یا غیبت نکنم)) از مسئولیت های من نسبت به می باشد.

- الف) خداوند
 ب) دیگران
 ج) عالم آفرینش
 د) خودم

۷۴) کدام گزینه در مورد جمله ((این دو به منزله دو کفه ترازو هستند)) صحیح است ؟

- الف) حق - مسئولیت
 ب) حق - نقش
 ج) مسئولیت - نقش
 د) حق - قانون

۷۵) مهم ترین علل به وجود آمدن مقررات و قوانین در جامعه چیست ؟

- الف) برقراری نظم و عدالت
 ج) جلوگیری از هرج و مرج و احترام به حقوق دیگران
 ب) ایجاد امنیت اجتماعی
 د) برقراری نظم و حفظ حقوق افراد

۷۶) تایید صلاحیت نامزدهای انتخاباتی برعهده کدام نهاد است ؟

- الف) مجلس شورای اسلامی
 ب) شورای نگهبان
 ج) مجلس خبرگان
 د) مجمع تشخیص مصلحت نظام

۷۷) ایستادن در صف نانوايي چه نوع مقرراتی است ؟

- الف) مذهبی
 ب) اخلاقی
 ج) اجتماعی
 د) حکومتی

۷۸) پس از پیروزی انقلاب اسلامی کدام مجلس برای نوشتن قانون اساسی جمهوری اسلامی ایران تشکیل شد؟

- الف) مجلس شورای اسلامی
 ج) شوراهای اسلامی
 ب) شورای نگهبان
 د) مجلس خبرگان

۷۹) جمله ((پس از درک احساس فرد حادثه دیده به کمک او بشتابیم)) کدام مفهوم را می رساند ؟

- الف) انسان دوستی
 ب) همدلی
 ج) همیاری
 د) احساس مسئولیت

۸۰) وظیفه جمعیت هلال احمر در شرایط عادی چیست ؟

- الف) آموزش دانش آموزان
 ج) جمع آوری کمک های مردمی برای آسیب دیدگان
 ب) برپایی چادرهای اسکان
 د) تلاش برای صلح و دوستی و حفظ محیط زیست

۸۱) شعر سعدی : ((چو عضوی به درد آورد روزگار)) اشاره به کدام گزینه دارد؟

- الف) تعاون
 ب) مسئولیت پذیری
 ج) همدلی و همیاری
 د) حفظ حقوق متقابل

۸۲) کدام بیمه اجباری است ؟

- الف) بیمه منازل مسکونی
 ب) بیمه بدنه اتومبیل
 ج) بیمه سرنشین خودرو
 د) بیمه آتش سوزی



۸۳) پرورش دام و صید ماهی در کدام بخش از فعالیت های اقتصادی قرار می گیرند؟

- الف) صنعت ب) خدمات ج) کشاورزی د) بازرگانی

۸۴) کدام یک از موارد زیر مربوط به برجسب مشخصات کالا نمی باشد؟

- الف) آدرس محل کارخانه ب) به کارگیری رنگ و مواد تقلبی
ج) تاریخ مصرف د) قیمت کالا

۸۵) کدام گزینه زیر جزء سرمایه محسوب نمی شود؟

- الف) دانش و مهارت ب) منابع مالی ج) ماشین آلات د) ابزار کارو زمین

زمان پیشنهاد: ۱۰ دقیقه

زبان انگلیسی (از سوال ۸۶ تا ۹۵)

۸۶ - A:? B: My name is Kimia.

- a) How are you ? b) Please say your name .
c) Please spell your name. d) How do you spell your name ?

87- A : I'm your new

B : to our school

- a) boy - Welcome b) classmate - Welcome
c) classmate - This is d) friend - Thanks

۸۸ - A : How are you , today ? B :

- a) Thank you , too b) This is Amir
c) Fine, thank you d) I am Ali .

۸۹- Teacher: Hi,class.

Students: Hello, Miss Barati. Teacher:, please.

- a) Fine, thanks. b) Sit down c) Excuse me. d) Good evening

90- A:? B: He is our new teacher .

- a) Who is that man? b) Is he our new teacher?
c) How is that man? d) Is he a good teacher?

۹۱- کدام گزینه با بقیه متفاوت است؟

- a) Good morning b) Hello c) Good afternoon d) Goodbye

92- A: Who is that man? B: That's

- a) Mr Karami b) Mrs Bahrami c) Miss Saberi d) Sahar Omid

93- A: Excuse me, can I have my library card, please?

B:

- a) I'm fine, thank you. c) That's my new classmate.
b) Sure, here you are. d) Nice to meet you.

94- Ali: Hello, Reza. How are you today? Reza: Fine, thanks.

Ali:? Reza: This is my new classmate, Mahdi.

- a) What's your first name? b) Can I help you?
c) Sorry, how do you spell your first name? d) Who is that boy?

۹۵- املاي کدام کلمه نادرست است؟

- a) dictionary b) blackboard c) sit down d) student